

INSTITUTO PRIVADO SAN AGUSTÍN Y MARÍA REINA DE LA PAZ

Adscripto a la Enseñanza Oficial

“La enseñanza para la Vida”

Pcias. Vascongadas N° 2410 B° Colón.

Teléfono: 4574095 De 8 a 13hs y de 14 a 17hs

WhatsApp: 3515594476

Correo: comunicadosprimaria@institutosanaagustin.com.ar



¡YA ESTAMOS EN TERCER GRADO!



Fecha: Lunes 8 de marzo de 2020.



En tu carpeta escribis la fecha antes de comenzar a hacer las actividades.

DÍA 1

Matemática

❖ Ordena los números según lo que te pide la consigna.

→ De mayor a menor.

349- 861- 536- 994- 382- 722- 136- 694- 82- 222

→ De menor a mayor.

825- 641- 285- 43- 143- 988- 654- 317- 583- 691

- ❖ Escribe el anterior y siguiente de cada número dado.

..... 227

..... 154

..... 210

..... 891

..... 579

..... 182

..... 440

..... 933

..... 199

..... 315

Lengua

- ❖ Escribí el texto en tu carpeta.
- ❖ Lee el texto y subraya de color **verde los sustantivos propios**, de **azul los sustantivos comunes**, de **naranja los adjetivos** y de **rojo los verbos**.

Había una vez un pirata, Benjamín, que tenía un loro llamado Pedro que era muy inteligente y colorido. Benjamín hablaba con su loro mientras navegaba por todos los mares en su gigante y hermoso barco.

- ❖ Escribe las palabras que subrayaste donde corresponda en el cuadro.
- ❖ Piensa y escribe dos ejemplos más de cada clase de palabras.

<u>Sustantivos propios</u>	<u>Sustantivos comunes</u>	<u>Adjetivos</u>	<u>Verbos</u>

Fecha: Martes 9 de marzo de 2020.




En tu carpeta escribis la fecha antes de comenzar a hacer las actividades.

DÍA 2
Matemática

- ❖ Dibuja la cantidad de billetes de \$100, de \$10 y monedas de \$1 que se necesitan para formar el dinero que tiene cada alcancía.



Mira el ejemplo que te da la seño:





- ❖ Escribe el nombre del número que tiene cada alcancía en minúscula y luego en cursiva.



Mira el ejemplo que te da la seño:

532 =

quinientos treinta y dos
quinientos treinta y dos

Lengua

- ❖ Observa la imagen (podes hacer el dibujo en tu carpeta) y escribe un breve texto describiendo el dibujo.



Fecha: Miércoles 10 de marzo de 2020.



En tu carpeta escribis la fecha antes de comenzar a hacer las actividades.

DÍA 3

Matemática

- ❖ Escribe el valor posicional de la cifra que se indica.



Mira el ejemplo que te da la seño:

El 5 en el 352 vale 50

El 8 en el 823 vale _____

El 8 en el 538 vale _____

El 1 en el 126 vale _____

El 6 en el 463 vale _____

El 4 en el 450 vale _____

2) Transformá los números cambiando su posición.

- ★ Convertirlos en los números más grandes que puedas formar:



Mira el ejemplo que te da la seño

215 : 521

128 _____

351 _____

599 _____

- ★ **Convertirlos en los números más pequeños que puedas formar:**



Mira el ejemplo que te da la seño

215 : 125

291 _____

458 _____

912 _____

Lengua

- ❖ Lee las siguientes palabras y escribe su sinónimo y su antónimo.

Palabras	Sinónimo	Antónimo
pequeño		
fácil		
rápido		
alegre		

- ❖ Piensa y escribe una oración con cada palabra de la primera columna de la actividad anterior en letra cursiva.



Fecha: Jueves 11 de marzo de 2020.



En tu carpeta escribis la fecha antes de comenzar a hacer las actividades.

DÍA 4
Matemática

❖ Resuelve las siguientes sumas y restas paradas.

$328 + 538 =$

$514 + 125 =$

$652 + 152 =$

$952 - 412 =$

$842 - 319 =$

$352 - 15 =$

❖ Ordena los números que te dieron como resultado en las operaciones anteriores de mayor a menor.

Lengua

- ❖ Ordena las sílabas y descubrí los sustantivos, adjetivos y verbos.

bu- bur- ja : _____

lo- ri- do- co: _____

le- na- Ma: _____

chi- mo - la : _____

bu- di- jar : _____

- ❖ Escribe las palabras que formaste de la actividad anterior donde corresponda en el siguiente cuadro.

<u>Sustantivos propios</u>	<u>Sustantivos comunes</u>	<u>Adjetivos</u>	<u>Verbos</u>


- ❖ Elige tres palabras del cuadro anterior y escribe oraciones en cursiva.

Fecha: Viernes 12 de marzo de 2020.



En tu carpeta escribis la fecha antes de comenzar a hacer las actividades.

DÍA 5
Matemática



¡Problemitas !

- ❖ Resuelve las siguientes situaciones problemáticas sumando, restando o multiplicando .

Recuerda colocar datos, operación y respuesta completa.

1- Malena tiene ahorrado en su alcancía \$536 y su abuela le regaló para su cumpleaños \$325 más. ¿Cuánto dinero tiene ahorrado en total?

Datos:	Operación:	Respuesta:

2- Pedro tenía 345 figuritas y perdió 19. ¿Cuántas figuritas le quedaron en total?

Datos:	Operación:	Respuesta:

3- Catalina fue con su hermano Lorenzo al kiosco y compraron 2 chupetines de \$6 cada uno. ¿Cuánto gastaron en total?

Datos:	Operación:	Respuesta:

4- La abuela de Juan para tejer un gorro usa 2 ovillos de lana ¿Cuántos ovillos necesita para tejer 4 gorros ?

Datos:	Operación:	Respuesta:

Lengua

- ❖ Escribe el siguiente texto en la carpeta.
- ❖ Lee el texto en voz alta.
- ❖ Responde las preguntas.

El gato Misingo.

En mi casa tengo un gatito muy bonito, de color café. Entiende si lo llamo Misingo. Es listo y salta a mucha altura. Le gusta echarse en la silla de papá.

Si le llamo a comer migas con leche, deja la silla y viene corriendo.

Me gusta ver a Misingo jugando con la cola levantada.

Contesto:

¿Qué tengo en mi casa? _____

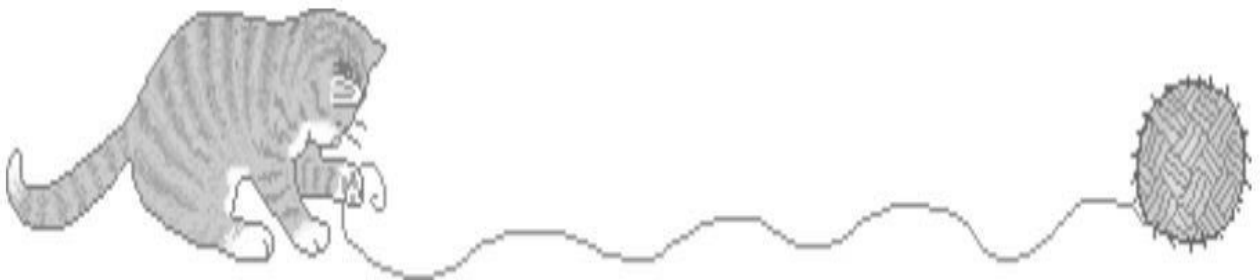
¿De qué color es el gato? _____

¿Cómo se llama el gato? _____

¿Dónde le gusta echarse al gato? _____

¿Qué le doy de comer al gato? _____

¿Cómo me gusta ver jugar al gato? _____



¡¡¡BUEN TRABAJO!!!

**Felicitaciones por haber llegado hasta acá.
Esperamos ver todas las actividades en tu carpeta el
día lunes 15 de marzo de 2021.**

SEÑOS DE TERCERO.

